

2017年河南公务员考试行测 真题



打开公考通app
进入历年真题查看解析

言语理解与表达

请根据题目要求，在每个选项中选出一个最恰当的答案。

1. 文化传统的延续，从来不是_____地照搬照抄。取其精华，去其糟粕，根据时代发展做出合乎社会需求的调整，才是对文化的最好传承。

依次填入画横线部分最恰当的一项是：

- A. 不假思索
- B. 囫囵吞枣
- C. 按部就班
- D. 一成不变

2. 在上海工作和生活的外国人，已不满足仅仅看灯会、逛庙会，从“_____”到“身临其境”，他们中越来越多人开始与中国朋友一起聚会，体会春节时那浓浓的年味。

填入画横线部分最恰当的一项是：

- A. 浅尝辄止
- B. 走马观花
- C. 入境问俗
- D. 浮光掠影

3. 市政市容委上半年就曾对全市报刊亭开展过整治，包括对破旧报亭进行维修、粉饰；重点治理亭外占道经营行为，拆除私自搭建的各类棚架等。若这类治理还止于“_____”的话，那动不动就把报亭拆除，只会是_____，制造更多问题。

依次填入划横线部分最恰当的一项是：

- A. 纸上谈兵 适得其反
- B. 公事公办 画蛇添足
- C. 墨守成规 事倍功半
- D. 就事论事 过犹不及

4. “慢”以从容恬淡之姿重出江湖，尽管讲慢生活的书_____地巡回宣传签售，尽管人们点击浏览着说慢的文字，汽车照样抢道，行人照样闯红灯，还是一个紧张拥挤恨不得什么都要赶上趟的节奏。在大干快上、只争朝夕的社会文化氛围的_____中，人们已渐次固化却甚少自知。

依次填入划横线部分最恰当的一项是：

- A. 马不停蹄 潜移默化
- B. 争先恐后 耳濡目染
- C. 层出不穷 日积月累
- D. 络绎不绝 推波助澜

5. 面对逆境，尼采从来都是一个内心无比强大的人。在他的著作中，最广为人知的莫过于《查拉图斯特拉如是说》了。这本代表作在1885年出版时销量_____，但这并不能阻止他继续深入思考自己的理论，在此之后，他还是不断自费印书。直到去世之后，他的思想才被重新_____和重视起来。

依次填入画横线部分最恰当的一项是：

- A . 下降 审视
- B . 惨淡 发掘
- C . 领先 评价
- D . 尚可 借鉴

6. 在“地球村”形势下，21世纪的人类需要面对的共同问题远远超过各民族_____的利益。我们不应把东方文化同西方文化_____起来。

依次填入划横线部分最恰当的一项是：

- A . 狭隘 对立
- B . 各自 混淆
- C . 有限 统一
- D . 根本 联系

7. 作为一个单纯的图书设计者，设计师需要尊重书籍本身而适度地“_____”自己，即不能“过度设计”而使形式僭越了书籍内容。但是，作为一个创意表达者，设计师一旦参与了图书的创作，就使书籍成为表达自己独特创意的_____，此时设计师已不仅仅干预了图书的形式，而是直接参与了内容的创作。

依次填入画横线部分最恰当的一项是：

- A . 压抑 工具
- B . 贬低 渠道
- C . 遗忘 符号
- D . 隐藏 媒介

8. 真正的经典电影无论什么时代的人看，都不会觉得过时。而支撑其长盛不衰的“戏核”，一定是_____的思想。眼下国内多数电影成了过眼云烟的“应景之作”，主要原因是习惯于用“扁、平、浅”的流水账方式向观众宣传定型定性的人和事。艺术作品如果完全失去了自身的深刻性、批判性，就等于失去了_____，化为了一缕缕容易飘散的艺术“轻烟”。

依次填入画横线部分最恰当的一项是：

- A . 历久弥新 灵魂
- B . 深入人心 本质
- C . 震古烁今 精髓
- D . 意味深长 价值

9. 在这个经济高速发展的时代，工作_____着我们的业余时间。工作与家的关系，不是非得舍弃哪一

方才能成全另一方，而是可以兼顾的，我们不能_____，忽略生命中最珍贵的东西，而在未来老去时空留悔恨和遗憾。

依次填入画横线部分最恰当的一项是：

- A . 占据 三心二意
- B . 消磨 本末倒置
- C . 侵占 半途而废
- D . 蚕食 舍本逐末

10. 在利益驱动、赶稿压力下，网络写作往往_____，恣情快意，顾不得考虑艺术品质和价值导向，让_____的所谓“文学”甚至文字垃圾充斥网络空间。

依次填入划横线部分最恰当的一项是：

- A . 粗制滥造 运笔如飞
- B . 泥沙俱下 妙笔如花
- C . 良莠不齐 笔走龙蛇
- D . 鱼龙混杂 笔下生风

11. 经济学的研究对象是人的经济行为和社会的经济规律，因此对人性有什么样的假设就会产生什么样的经济学。“经济人”假设是经济学对人性的最高概括，是经济学的逻辑前提。但传统经济学对它做了教条化和绝对化的理解，仅仅研究在资源稀缺条件下静态的、孤立的个人选择。而新古典经济学的症结在于对人性的理解过于单一，没有看到人性是丰富的，并且是在历史中演进着的。因此，经济学必须实现新的转向，从研究既定制度前提下的稀缺资源的最优配置问题转向对人类的合作与冲突机制的研究。

这段文字主要说明了：

- A . “经济人”假设存在的问题
- B . 经济学研究遭遇瓶颈
- C . 人类的合作与冲突机制是经济学的核心问题
- D . 对人性的错误理解是新古典经济学的症结

12. 清代纪晓岚在《阅微草堂笔记》中讲了这样一则寓言故事：一个官员在阎王面前自称生时为官清廉，所到之处，只饮一杯清水，可以无愧于鬼神。阎王笑道：“设官是为了兴利除弊，如果不贪钱就是好官，那么在公堂中设一木偶，连水都不用喝，岂不更胜于你？”官员不服，辩解道：“我虽无功，但总无过。”阎王怒道：“你处处只求保全自己，该办的事不办，该断的案不断，岂不是负国负民，无功就是过啊。”

最适合做这段文字标题的是：

- A . 莫做“公堂木偶”
- B . 清官与庸官
- C . 官员的功与过
- D . 纪晓岚谈为官

13. ①阅读，不仅是认识符号而已，更要懂得符号所传递的内涵

②而观画，也不只是看到五彩缤纷的调配，还应细想，画中原是有画的

③只是我们的脚步太匆忙了，常常忘记去读它，欣赏它，随意地浏览过去

④便断言生活是一味地今日因袭昨日

⑤只是公式化的衣食住行罢了

⑥每个日子，都是内容不同的一本书、风格迥异的一幅画

将以上6个句子重新排列，语序正确的一项是：

A . ①②③④⑤⑥

B . ⑥③④⑤①②

C . ①②⑥③④⑤

D . ⑥①②③④⑤

14. ①中国史前文化的整体格局，应该是以中原为核心，以黄河与长江流域为主体，结合周边地区文化而形成的一个有机整体。

②周围地区虽然文明化进程稍迟，但各具特色，同黄河长江流域乃至中原地区的文化紧密结合在一起，构成一个超稳定的结构。

③这就像一个有多层花瓣的花朵。

④黄河长江流域因为自然环境优越，又紧靠中原周围，文化发展水平甚高，成为整个中华文明的主体。

⑤中原文化的中心地位，既有地理位置方面的原因，也有文化传统方面的原因。

⑥从夏商周、秦汉隋唐直至北宋历代的都城都在中原，中原地区处于稳定的政治中心地位。

将以上6个句子重新排列，语序正确的是：

A . ①③⑤⑥④②

B . ⑤④②③①⑥

C . ⑥④②①⑤③

D . ④②③①⑥⑤

15. ①然而，今天的许多口述史确实出现了一些问题

②在今天的历史学中，口述史已经是一个不可或缺的部分，它对于正史的补充作用是别的史学无法替代的

③因为许多口述史失去了真实的面目，而口述史最大的价值就在于真实

④最大的问题是科学性差，可信度差，这当然就导致科研性很差

⑤口述史为什么有许多变成了演义、猎奇、故事呢

⑥第一个原因可能是为吸引眼球，另一个原因，则和许多从事口述史记录的人缺少专业的训练和素养有关

将以上6个句子重新排列，语序正确的是：

- A . ②⑤⑥①④③
- B . ⑤⑥③④②①
- C . ⑤③⑥②①④
- D . ②①④③⑤⑥

16. 几年前，美国一位参议员指责国家科学基金会把奖励颁给一项关于恋爱缘由的研究。他认为，恋爱缘由是无法科学判断的，不论发现什么缘由都不足为信，而且，他更愿意相信爱情是神秘的。作家赖斯顿也同意这位参议员的看法，但是补充说：“如果社会学家和心理学家能够得出某种结论，用来回答我们在爱情、婚姻中所遇到的问题，这笔奖金可能是联邦资金最佳的一笔投资了。”

赖斯顿的这段话意在强调：

- A . 研究恋爱的缘由难以得出明确结论
- B . 对恋爱缘由的研究或许能促进婚姻的稳固
- C . 美国国家科学基金会应该把奖励颁给其他研究项目
- D . 关于爱情和婚姻中现实问题的研究更有意义

17. 近年来，关于不同物理理论之间对应方面的研究取得了一些进展。有科学家认为，这些对应强烈表明，存在一种完备的统一物理理论，但是它们也暗示，也许不可能用一个单独表述来表达这个理论。相反，在不同的情形下，必须使用基本理论的不同影像。这和用地图描绘地球表面很相似，人们不能只用一张单独的地图，在不同的区域必须用不同的地图。这就变革了科学定律的统一观，但是它并没有改变最重要的一点：一组人们能够发现并理解的合理的定律制约着宇宙。

这段文字画线部分中的“它”指的是：

- A . 完备的统一物理理论是存在的
- B . 不同物理理论之间存在对应关系
- C . 在不同的区域必须使用不同的地图
- D . 统一物理理论需要用不同方式来表述

18. 公元前5世纪左右，管仲提出以法治国。此后，法律就被公认为是治理国家的工具。到唐朝，魏征做了一个形象的比喻。他说国家好像是一匹奔马，骑在马上骑手就是皇帝，皇帝手中拿的鞭子就是法律。既然古代的法律是君主手中的鞭子，这个法律必然受到君主的影响。

这段文字主要讲的是：

- A . 古代法治的本质
- B . 法律对治国的作用
- C . 以法治国思想的变迁
- D . 古代法律对君权的影响

19. 研究人员认为噩梦能够让我们释放出那些在我们清醒时折磨我们的压力和焦虑。他们解释说：“那些在我们清醒时令我们担忧的事情，在我们睡着之后还会继续干扰我们。无意识状态下的大脑会获取我们的抽

象恐惧，通过噩梦的故事形式，将其转变成一种记忆。”这是非常有用的，因为记忆对于大脑来说更容易处理，它代表着发生在过去的某种事情，而不是围绕我们的担忧。

这段文字意在说明噩梦：

- A. 代表着过去发生的某种事情
- B. 虽然可怕却有益精神健康
- C. 是一种令我们担忧的故事形式
- D. 本质上是恐惧对记忆的扭曲

20. 随着技术的发展，未来真实宠物将成为稀缺的“奢侈品”，机器人宠物则会进入普通家庭。那些对宠物敏感、缺少饲养空间或者对真实动物具有恐惧感的人群将受益，但是人类与机器人宠物产生的情感关系却会导致伦理质疑。如果虚拟宠物能够产生人们从真实宠物获得的效应，是否意味着人类与动物之间的情感关系能够真实映射在机器人宠物上？人们特别想知道未来人类随意丢弃机器人宠物的行为是否会由人类虐待动物的行为转变而来。

这段文字意在说明：

- A. 未来机器人宠物和虚拟宠物将被广泛接受
- B. 机器人宠物的出现对人类有利有弊
- C. 人类与机器人宠物产生的情感关系将产生伦理问题
- D. 机器人宠物或将改变人们对待真实宠物的方式

21. 以“克己”为出发点的传统中国道德体系，在当代中国对于开拓公共性依然具有重要的价值，这是因为传统差序格局的私人关系文化在中国根深蒂固，因而其依然是当代中国个人道德尤其是官德建设的重要要求。但是，依据费孝通的观点，以“克己”为出发点的传统儒家道德体系，是差序格局中的私人道德，并没有超越亲疏厚薄的差序特性，缺乏个人与共同体之间的公共道德要素。而要突破传统差序格局私人关系文化对于公共性开拓的束缚，最重要的还在于发展个人与共同体之间的公共道德要素。

这段文字意在强调以“克己”为出发点的传统中国道德体系：

- A. 以传统的差序格局为形成基础
- B. 是当前道德建设的主要内容
- C. 没有超越亲疏厚薄的差序特性
- D. 对于开拓公共性存在局限性

22. 有学者认为中国的心性之学，不是西方传统哲学中理性的灵魂论，或近代科学中的心理学，而是具有修身济世内涵的人生价值学。流行于西方的“深度心理学”，多半是从人的本性以外的物性或兽性来理解人，反映了西方人的悲观和失望情绪；而中国心性之学是天地合德的“高度心理学”，它可以安顿人心，济焦润枯。

这段文字意在：

- A. 比较中西方心性研究的差异

- B . 阐述中国心性之学的内涵
- C . 强调心性之学对人生的作用
- D . 分析中国心性之学的科学意义

23. 当史前人类到达世界的新区域时，发生了一些奇怪的事情：大型动物突然灭绝了，较小的物种却幸存下来了。大型的、生长缓慢的动物很容易成为猎物，所以被迅速猎杀直至灭绝。现在类似的情况可能正在海洋中发生。

这段文字提到史前大型动物的灭绝是为了说明：

- A . 大型动物更加容易受到环境变化的影响
- B . 当大型动物消失时，小物种幸存了下来
- C . 如今大型海洋动物可能面临类似的威胁
- D . 生长缓慢的鱼类比生长快的鱼类寿命长

24. 当人类把其自身的存在完全寄生在由社会高速发展所带来的各种“可见的”虚妄之中的时候，很难想象人们还能守住最基本的道德和良心底线，而不是跟着社会发展的“巨龙”一起越界，飞到吞噬一切良知和道德的“黑洞”之中。试图用可见性的物质财富填满“存在”这个黑洞的最大悲剧在于：“没有谁能跑赢欲望，总有一天，你填入了所有的东西，却无力地发现，那个黑洞还在。物质也许能带来短暂的一次次快乐，但绝非幸福。”最终，很多人为了填满自我存在的那个巨大深渊，不自觉地把自己整个地埋葬在物欲的巨大黑洞之中。

这段文字强调的是：

- A . 人的存在本质上就是一个巨大的“黑洞”
- B . 物质能够解决停留在虚妄之中的存在难题
- C . 物欲时代不存在最基本的道德和良心底线
- D . 人的存在应当超越“可见的”物欲性追求

25. 对人类来说，太阳是生命之源，地球上的一切生命活动都与太阳息息相关。但是，当大量的太阳活动伴随着如日冕物质抛射、质子事件发生时，就会对人类生产生活造成危害。因此，_____，成为各国科学家孜孜不倦的追求。目前，世界上对太阳大气的观测，国外太阳望远镜最多可同时实现6波段层析成像，并且仅局限于可见光波段。在经过多年技术积累和科研攻关后，中国科学院光电技术研究所成功研制了7波段太阳层析成像系统。据悉，这是目前世界上波段最多的多波段层析成像系统。

填入画横线部分最恰当的一项是：

- A . 如何最大程度地避免太阳活动对人类造成的危害
- B . 记录不同波段的图像以了解太阳活动的演化过程
- C . 如何建立精确的太阳大气模型
- D . 加强对太阳活动产生机理的研究

26. 语言从来不是固化的，而是随着社会的发展而变化的。任何一种语言的形成和发展，都是使用这种语言

的人们在生活中的约定俗成，可以说，语言本身就是一种社会现象，是一个社会中人们的精神状态和社会心态投射而成的具象。因此，网络语言粗鄙化的现象不应当被视作孤立的语言问题来看待，粗鄙化折射出的浮躁心态、社会发展中积累的戾气等问题，恐怕比语言粗鄙化本身更值得关注。

这段文字意在强调：

- A . 语言是人类精神状态和社会心态的反映
- B . 网络语言的粗鄙化应成为社会关注的问题
- C . 语言研究应以语言随着时代发生的变化为重点
- D . 应重视网络语言粗鄙化折射出的社会问题

27. 南京云锦已有1500多年的手工织造历史，在中国4700多年的丝绸织造史中，云锦的木机妆花是唯一流传至今不可被机器取代、凭人的记忆编织的传统手工织造工艺。南京云锦织造技艺存续着中国皇家织造的传统，是中国织锦技艺最高水平的代表，是元、明、清三朝的御用品。皇室、宫廷、寺庙、佛堂为云锦妆花手工织造工艺的发展提供了极大的文化空间。云锦浓缩了中国丝织工艺的历史、文化和技艺，继承和再现了中国丝织工艺的精华，是中国织锦工艺的“活化石”。

关于云锦，这段文字没有提及：

- A . 代表技艺
- B . 演变过程
- C . 工艺水平
- D . 文化意义

28. “分享经济”也叫“协同消费”，是指资源所有者将自己闲置的资源拿出来，供那些需要的人有偿使用。对于传统消费理念与消费方式的改造与颠覆，是分享经济正向作用的一个重要表现。在分享经济环境中，人们不再是通过购买所有权的方式而是通过取得使用权的方式进行消费，关注的不再是自己占有多少价值而是能够获得多大的使用价值。这种节约型绿色消费理念和方式反映出的是人类文明的进步。

这段文字意在强调：

- A . 消费理念是影响消费方式的深层原因
- B . 分享经济使人的消费理念与生活方式发生改变
- C . 分享经济开辟了充分利用资源的新渠道
- D . 分享经济已成为当今主流的消费方式

29. 不管你是贪甜还是厌酸，对味道的感觉——酸、甜、苦、咸人皆有之，它是由食物中味的成分决定，并由我们舌头表面乳头味蕾的味细胞来感知的。人类每个味细胞膜上有两个以上的基本味（甜、酸、苦、咸）受体，90%以上的味细胞能同时接受两种以上基本味的刺激，产生相应的反应。另外，味细胞对各种味的敏感程度是不同的，其顺序为苦、酸、咸、甜，因此人们对甜的耐受性大，而对苦的耐受性小。

下列说法与文意相符的是：

- A . 味细胞的敏感程度因人而异
- B . “苦”是味细胞最先感知到的味道
- C . 人类一般来说是耐甜怕苦的
- D . 10%的味细胞只能接受一种基本味的刺激

30. 大家都知道中国文化需要“走出去”，但是很少有人清楚地知道文化方面什么东西要走出去。正如商家做营销，你要推销产品，首先必须有产品。营销只是包装和策略问题，营销得当就能够逐步确立人们对产品的认同感。但无论如何，首先必须有高质量的产品。如果产品质量低下，营销做得再好也无济于事。

这段文字接下来最有可能讲述的是：

- A . 营销与产品的相互关系
- B . 如何建立文化产品的质量标准
- C . 目前中国文化“走出去”所面临的困境
- D . 中国文化“走出去”应确立的主要产品

数量关系

请根据题目要求，在每个选项中选出一个最恰当的答案。

31. 某篮球比赛有12支球队报名参加，比赛的第一阶段中，12支球队平均分成2个组进行单循环比赛，每组前4名进入第二阶段；第二阶段采用单场淘汰赛，直至决出冠军。问亚军参加的场次占整个赛事总场次的比重为：

- A . 10%以下
- B . 10%~15%
- C . 15%~20%
- D . 20%以上

32. 140支社区足球队参加全市社区足球淘汰赛，每一轮都要在未失败过的球队中抽签决定比赛对手，如上一轮未失败过的球队是奇数，则有一队不用比赛直接进入下一轮。问夺冠的球队至少要参加几场比赛：

- A . 3
- B . 4
- C . 5
- D . 6

33. 老王和老李沿着小公园的环形小路散步，两人同时出发，当老王走到一半路程时，老李走了100米；当老王回到起点时，老李走了5/6的路程。问环形小路总长多少米：

- A . 200
- B . 240
- C . 250

- D . 300
34. 甲与乙一起骑自行车从A地去B地，自行车的速度为每小时15千米。走了 $\frac{1}{3}$ 的路程后，乙因故骑自行车返回A地而甲下车继续步行前行。乙在到达A地后立刻原路折返，在距离B地还有 $\frac{1}{3}$ 的路程处追上甲。问甲步行的速度为每小时多少千米：
- A . 3
B . 4
C . 5
D . 6
35. 某公司将销售部门拆分为线上和线下两个团队，拆分后线上团队的人数为线下团队的2倍，线下团队男女员工人数相同，线上团队的男员工人数占两个团队男员工总数的60%。则拆分前，销售部门男女员工人数之比为：
- A . 1:2
B . 2:3
C . 3:5
D . 5:7
36. 某早餐店试营业主打套餐每份成本8元，售价26元。当天卖不完的主打套餐不再出售，在过去两天时间里，餐厅每天都会准备200份主打套餐，第一天剩余20份主打套餐，第二天全部卖光。问这两天该早餐店主打套餐共盈余多少元：
- A . 6680
B . 6840
C . 7000
D . 7160
37. 公司销售部门共有甲、乙、丙、丁四个销售小组，本年度甲组销售金额是该部门销售金额总数的 $\frac{1}{3}$ ，乙组销售金额是另外三个小组总额的 $\frac{1}{4}$ ，丙组销售金额比丁组销售金额多200万元，比甲组少200万元。问销售部门销售总金额是多少万元：
- A . 1800
B . 2400
C . 3000
D . 3600
38. 某单位男女员工的人数之比是15 : 13。按人数之比5 : 7 : 8，分为甲、乙、丙三个科室，其中甲科室男女员工的人数之比为4 : 3，乙科室为5 : 2。则丙科室男女员工人数之比为：
- A . 1:2
B . 2:3

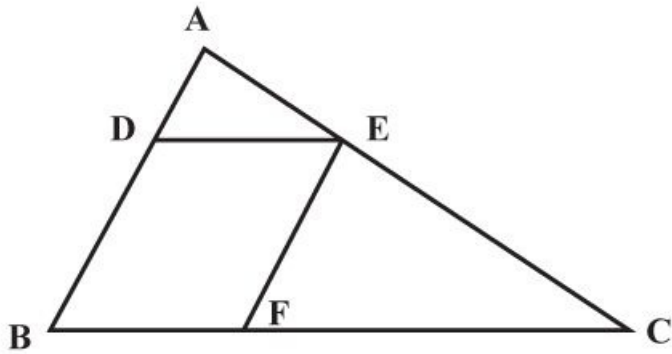
- C . 5:9
D . 5:8
39. 租车公司的商务车数量比小客车少16辆，某日租出商务车、小客车各16辆后，剩下的小客车数量正好是商务车的3倍。问该公司商务车和小客车数量之比为多少：
- A . 2:5
B . 3:5
C . 4:7
D . 5:7
40. 小张每周一到周五都要去健身房锻炼。某年小张每个季度去健身房锻炼的天数相同，问当年的国庆节是星期几：
- A . 星期一
B . 星期五
C . 星期六
D . 星期日
41. 甲、乙、丙和丁四辆载重不同的卡车运输一批货物。其中甲的载重是乙的2倍，是丙的3倍，是丁的1.5倍。如果甲和丁一起运货，各跑10次正好能运完所有货物。如果乙和丙一起运货，且乙每小时运一趟，丙每半小时运一趟，问需要多少小时才能运完所有货物：
- A . 14
B . 14.5
C . 15
D . 15.5
42. 一本书的正文页码数字中总计出现了87次2，问出现3的次数比6多多少次：
- A . 3
B . 4
C . 6
D . 10
43. 张老师家四代同堂，且从父亲、张老师、儿子到孙子，每两代人的年龄差相同。5年前张老师父亲的年龄是儿子的3倍，8年后张老师的年龄是孙子的5倍。
问今年四个人的年龄之和为：
- A . 168岁
B . 172岁
C . 176岁
D . 180岁

44. 某单位有80名职工参加了义务劳动、希望工程捐款和探望敬老院三项公益活动中的至少一项。只参加一项的人数与参加超过一项的人数相同，参加所有三项公益活动的与只捐款的人均为12人，且只探望敬老院的人比只参加义务劳动的人多16人。

问探望敬老院的人最多比参加义务劳动的人多多少人：

- A . 28
- B . 32
- C . 36
- D . 44

45. 一块三角形农田ABC（如下图所示）被DE、EF两条道路分成三块。已知 $BD = 2AD$ ， $CE = 2AE$ ， $CF = 2BF$ ，则三角形ADE、三角形CEF和四边形BDEF的面积之比为：

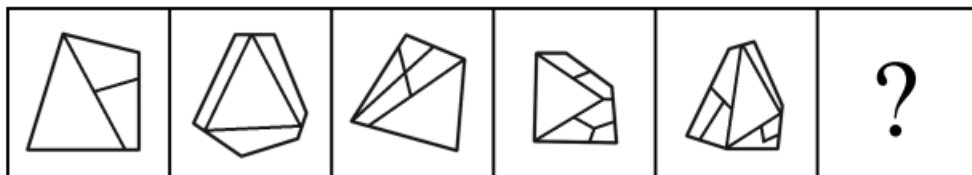


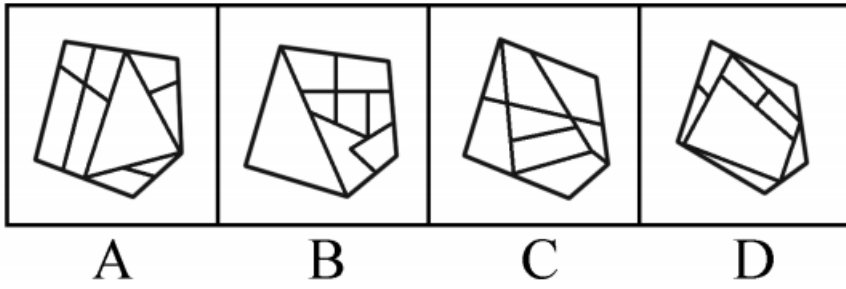
- A . 1:3:3
- B . 1:3:4
- C . 1:4:4
- D . 1:4:5

判断推理

请根据题目要求，在每个选项中选出一个最恰当的答案。

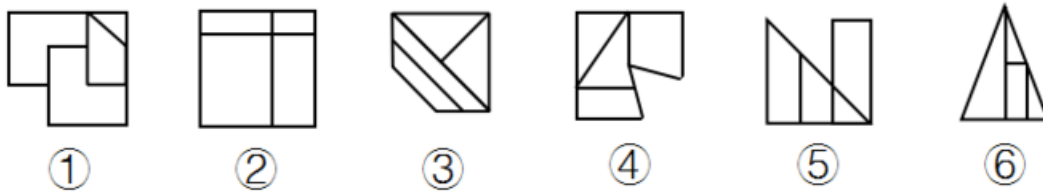
46. 从所给的四个选项中，选择最合适的一个填入问号处，使之呈现一定的规律性：





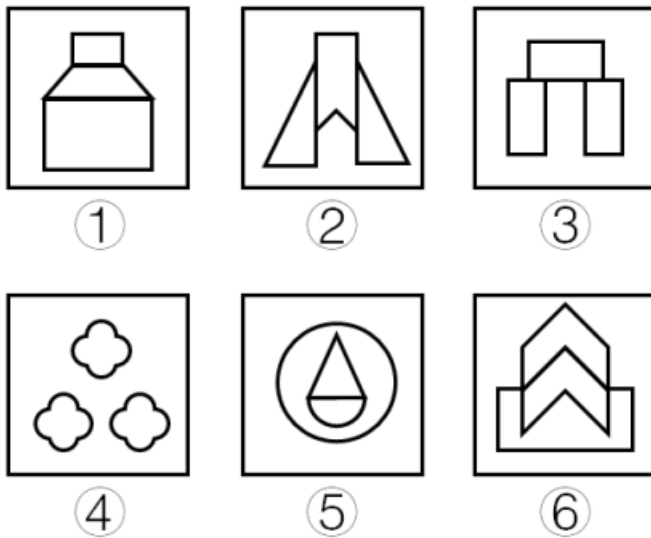
- A . A
- B . B
- C . C
- D . D

47. 把下面的六个图形分为两类，使每一类图形都有各自共同特征或规律，分类正确的一项是：



- A . ①②④ , ③⑤⑥
- B . ①④⑤ , ②③⑥
- C . ①③⑥ , ②④⑤
- D . ①⑤⑥ , ②③④

48. 把下面的六个图形分为两类，使每一类图形都有各自共同特征或规律，分类正确的一项是：

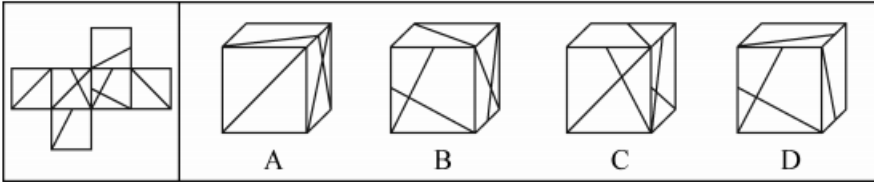


- A . ①②③ , ④⑤⑥
- B . ①④⑤ , ②③⑥

C . ①③⑤ , ②④⑥

D . ①⑤⑥ , ②③④

49. 左边给定的是正方体的外表面展开图，下面哪一项能由它折叠而成：



A . A

B . B

C . C

D . D

50. 把下面的六个图形分为两类，使每一类图形都有各自的共同特征或规律，分类正确的一项是：



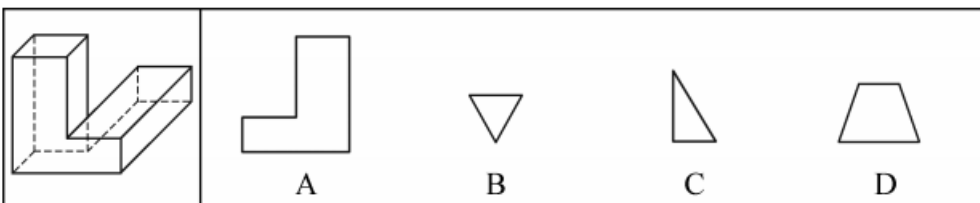
A . ①③④ , ②⑤⑥

B . ①②⑤ , ③④⑥

C . ①⑤⑥ , ②③④

D . ①③⑥ , ②④⑤

51. 左图是给定的立体图形，将其从任一面剖开，下面哪一项不可能是该立体图形的截面：



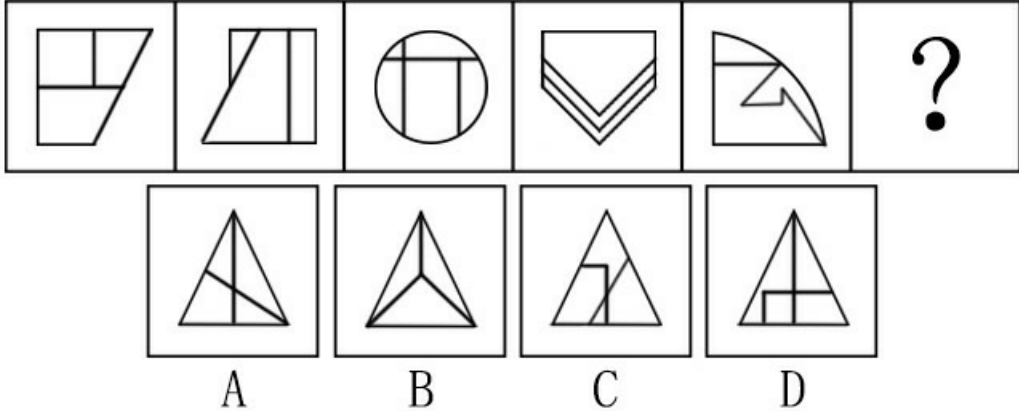
A . A

B . B

C . C

D . D

52. 从所给的四个选项中，选择最合适的一个填入问号处，使之呈现一定的规律性：



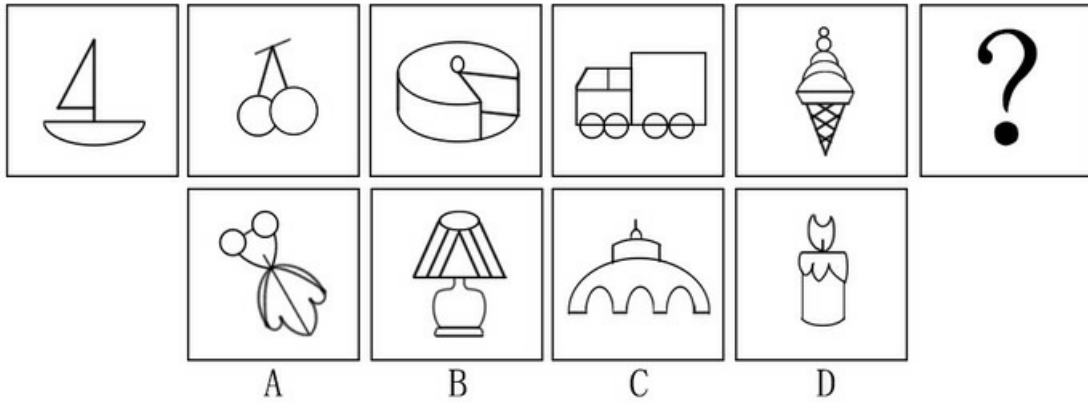
A . A

B . B

C . C

D . D

53. 从所给的四个选项中，选择最合适的一个填入问号处，使之呈现一定的规律性：



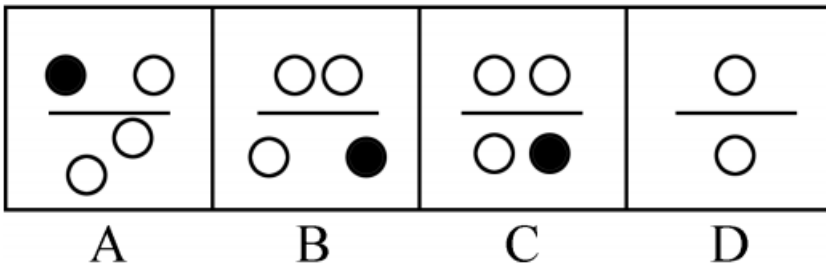

A . A

B . B

C . C

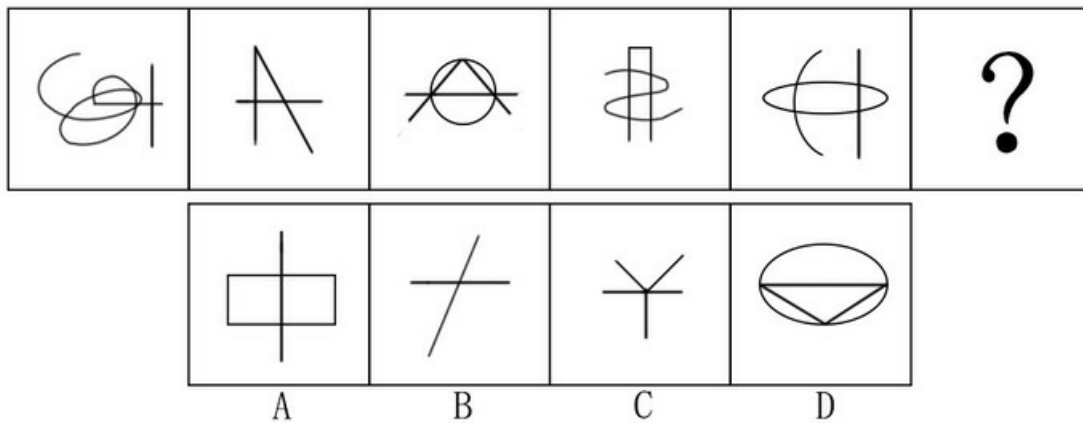
D . D

54. 从所给的四个选项中，选择最合适的一个填入问号处，使之呈现一定的规律性：



- A . A
- B . B
- C . C
- D . D

55. 从所给的四个选项中，选择最合适的一个填入问号处，使之呈现一定的规律性：



- A . A
- B . B
- C . C
- D . D

56. 暂予监外执行是指对被判处有期徒刑、拘役或无期徒刑的罪犯，在某些法定情形出现时，暂时不采取在

监狱或看守所执行原判刑罚的一种变通执行方法。罪犯有下列情形之一的，可以暂予监外执行：（1）有严重疾病需要保外就医的；（2）怀孕或正在哺乳自己的婴儿的；（3）生活不能自理，适用暂予监外执行不致危害社会的。被判处无期徒刑的罪犯，只有在符合第二种情形时，才可以暂予监外执行。对适用保外就医可能有社会危险性的罪犯，或者自伤自残的罪犯，不得保外就医。

根据上述定义，下列罪犯最有可能适用暂予监外执行的是：

- A. 罪犯甲（女）被判处有期徒刑，丈夫死亡，父母患重病，尚有三个3-8岁的未成年子女无人照看
- B. 罪犯乙被判处有期徒刑，入监后对生活失去信心，自杀未果，危及生命
- C. 罪犯丙被判处有期徒刑，服刑期间突发疾病，肢体瘫痪，生活不能自理
- D. 罪犯丙（女）被判处死刑，判决生效后发现其已怀孕三个月

57. 服务型公关是指组织以提供各种实惠服务为主，通过实际行动获取社会公众的了解和好评，从而建立组织良好形象的公共关系活动。

根据上述定义，下列属于服务型公关的是：

- A. 某热水器厂家定期向用户发送热水器使用注意事项，每年为用户免费更换滤网
- B. 某环保公司通过某电视节目宣布向灾区一次性提供价值5亿元人民币的救助物资
- C. 某酒厂在电视黄金时段投放大量广告宣传其新产品
- D. 某制药公司董事长就生产的某批次药品不合格一事向消费者公开道歉，并辞去相关职务

58. 消费痛点指消费者在使用或希望使用某商品时，认为存在特别令人不满意或令人感到麻烦的地方。

根据上述定义，下列不属于消费痛点的是：

- A. 江女士特别注意美容，购买了某品牌护肤品，但她发现使用起来很不方便
- B. 老马为了养生特地购买了海参，但他发现发制和烹煮特别耗费时间和精力
- C. 小林家使用的抽油烟机效果很好，但清洗太复杂，每次都需专业人员登门
- D. 谢女士买了一条心仪已久的裙子，但是穿上后周围的朋友都说不适合她，她感到很沮丧

59. 舌尖效应是指对于平时很熟悉的事物，人们就是一时想不起来，有一种话到口边却说不出来的感觉，在情绪紧张时尤其明显。

根据上述定义，下列属于舌尖效应的是：

- A. 退休不久的老孙在街上看到过去同一办公室的同事，同事热情地与他打招呼，但老孙就是想不起同事的名字
- B. 小王去一家广告公司应聘，面对招聘人员的提问，他沉着冷静，对答如流，但当招聘人员最后问他所期望的工资待遇时，他却难以启齿
- C. 江先生平时聊天总能侃侃而谈，在一次相亲中他遇到一位心仪的女性，他一紧张反而变得笨嘴拙舌，不知如何与对方攀谈
- D. 在一次数学考试中，小张遇到一道难题，他的大脑一片空白，心里很着急，但就是不知如何回答

60. 所谓面源污染，是指溶解的或固体的污染物从非特定的地点，在降水（或融雪）的冲刷作用下，通过径

流过程而汇入受纳水体（包括河流、湖泊、水库和海湾等），并引起水体的富营养化或其他形式的污染，是相对于点源污染而言的一种水环境污染类型。

根据上述定义，下列情形属于面源污染的是：

- A．某核电站因地震发生核泄漏造成海水污染
- B．酸雨造成了土壤污染和农作物大面积减产
- C．农村到处散落的垃圾经降水过程污染水体
- D．造纸厂的工业污水不经处理由排污管排放到湖里

61. 内生式发展，是一种主要由发展地区内部来推动和参与、充分利用发展地区自身的力量和资源、尊重自身的价值与制度、探索适合自身发展道路的发展。

根据上述定义，下列情形属于内生式发展的是：

- A．新农村建设中，地方政府撤村建社区，让农民集中到社区居住
- B．为推动农民致富，地方政府让农民放弃种植小麦，统一种植果树
- C．农民放弃机械化的耕作模式，采用传统的人工耕作方式
- D．山区农民组建藤条编织合作社，将藤编产品打入国际市场

62. 无卡支付指付款人借助互联网、移动互联网、无线局域网等渠道进行的，不需要通过受理设备读取物理卡片，即可向收款人转移可以接受的货币债权。

根据上述定义，下列不属于无卡支付的是：

- A．小王是个网购达人，为方便购物，他开通了支付宝的“快捷支付”功能，输入卖家支付宝账号即可付款完成交易
- B．某高校开通了“校园一卡通”服务，该卡既可以当门禁卡、借书证使用，也可以用它在餐厅、超市消费，方便了广大师生
- C．小钱是资深的游戏玩家，经常在游戏平台用网银购买大量游戏装备
- D．餐馆老板老吴开通了微信支付，顾客买单时只需用手机扫描账单上的二维码，即可用微信支付相应的费用

63. 责任分散效应也称为旁观者效应，是指对某一事件来说，如果是单个个体被要求单独完成任务，个体责任感会增强。但如果是要求群体共同完成任务，群体中的每个个体的责任感会变弱，甚至会出现人多不负责、责任不落实的情况。这一效应常发生在事故发生后众多旁观者身上。

根据上述定义，下列情形不属于责任分散效应的是：

- A．有一位口吐白沫的人倒在街上，小明看到后心想“有人会打120的”
- B．邻居家的房子着火了，小吴和其他邻居从楼道逃生
- C．有一个小孩被车撞倒在马路中央，经过的车辆纷纷绕道而行
- D．某女士在闹市区遭遇歹徒袭击，数次高呼“救命”而无人施救

64. 持有损益是指资产和负债的所有者由于持有资产或负债，而被动承受价格变动对资产或负债价值影响的

后果，所有者在其中并未对资产或负债采取任何加工或转换的行为。

根据上述定义，下列属于持有损益的是：

- A. 小文持有某种股票，因股价变化使他获得3万元的收益
- B. 某企业的生产设备因消耗而引起资产价值减少2万元
- C. 某公司折价（95元）发行面值100元的债券，形成5元的价差
- D. 某单位原材料储备过程中因霉变损失6000元

65. 超率累进税率是指以征税对象数额的相对比率（如产值利润率、资金利润率、销售利润率、成本利润率等）划分征税级距，分别规定相应的差别税率，相对比例每超过一个级距的，对超过的部分就按高一级的税率计算征税。

根据上述定义，下列各项中按照超率累进税率征税的是：

- A. 我国法律规定，土地增值额未超过扣除项目金额50%的部分，土地增值税税率为30%；超过扣除项目金额50%、未超过100%的部分，税率为40%
- B. 我国建国初期征收工商所得税税率分为21级，所得额未满300元的税率为5.75%；所得额在万元以上的税率为34.5%
- C. 我国企业所得税的税率为25%。符合条件的小型微利企业，按20%的税率征收企业所得税；国家需要重点扶持的高新技术企业，按的税率征收企业所得税15%
- D. 我国法律规定，白酒消费税税率为240元/吨，黄酒消费者税率为250元/吨，啤酒消费税税率为220元/吨

66. 正方形：立方体

- A. 三角形：棱形
- B. 直线：平面
- C. 圆：球
- D. 四边形：八面体

67. 无机物：化合物

- A. 中草药：野菜
- B. 二氧化碳：有机盐
- C. 空间：时间
- D. 原子：电子

68. 报销：凭据：发票

- A. 平衡：支出：消费
- B. 乘车：凭证：车票
- C. 辩护：律师：法律
- D. 观赏：电影：门票

69. 青岛：城市：沿海地区

- A . 苹果：水果：果树
- B . 矿泉水：饮料：茶杯
- C . 足球：运动：草坪
- D . 公交车：公路：市区

70. 民歌 对于 () 相当于 () 对于 航天器

- A . 歌曲 飞船
- B . 民间 太空
- C . 舞曲 宇航员
- D . 民谣 飞机

71. 什么才是伟大的文学作品？它必须同时具备丰满的情节，细腻的描述，能将主人公的命运置身于时代的大背景下，最终展现世世代代流淌于人类血液中的共性。

由此可以推出：

- A . 一部文学作品之所以伟大在于它具备丰满的情节
- B . 只关注个人世界的作品也能够成为伟大的文学作品
- C . 不能体现人类共性的作品不是伟大的文学作品
- D . 情节丰满、描述细腻、能将主人公命运置身于时代大背景下的作品就是伟大的文学作品

72. 早期宇宙只含有最轻的元素：氢和氦。重一点的元素，如碳，只在恒星发生核反应时产生，并在恒星爆炸时散发出来，存在于随后形成的气云之中。最近发现某气云在40亿年前就含有碳，那时该处宇宙中只有年龄不超过20亿年的恒星。

由此可以推出：

- A . 气云中的碳此后形成了恒星的一部分
- B . 截至目前无一恒星与气云同样古老
- C . 气云中也同时含有氢和氦两种元素
- D . 该气云中碳的形成不超过60亿年

73. 南方地区种植棉花一般使用营养钵育苗。但是使用营养钵育苗常遇到草害问题，严重抑制棉苗生长发育。草害仅由以下两种原因之一引起：一是新选址的苗床来不及翻耕，留下的残余杂草繁殖的；二是施入了未彻底腐熟的肥料，杂草籽被带入苗床，使之快速繁殖。因此，要在棉花播种后出苗前施用除草剂，可选用48%拉索乳油或72%都尔乳油，都能有效防止杂草危害。

由此可以推出：

- A . 若没有杂草繁殖影响，使用棉花营养钵育苗就不会遇到草害
- B . 在棉花出苗后施用除草剂的效果不佳
- C . 种植棉花时有效防止了杂草危害，说明选择了上述两种除草剂中的一种

D. 使用棉花营养钵育苗的棉苗生长发育不好, 说明遇到了草害问题

74. 某研究所的员工构成情况是: 所有的工程师都是男性, 并非所有工程师都是研究生, 并非所有研究生都是男性。

由此可以推出:

- A. 有的男性不是工程师
- B. 有的男研究生是工程师
- C. 有的研究生是男性
- D. 有的男性不是研究生

75. 某学生考试作弊被学院监考老师发现。如果老师将此事向学校上报, 这个学生会被学校开除; 如果这个学生被开除, 学院的年终考核会被一票否决。如果老师未将此事向学校上报, 学生考试作弊现象将愈演愈烈。

由此可以推出:

- A. 如果学院的年终考核未被一票否决, 则学生考试作弊现象将愈演愈烈
- B. 如果学院的年终考核被一票否决, 作弊现象不会愈演愈烈
- C. 如果该学生被开除, 说明老师已将此事向学校上报
- D. 如果作弊现象愈演愈烈, 说明该学生没有被开除

76. 四个好朋友相约在孤岛进行野外生活体验一个月, 随后他们对这次活动有如下对话:

- 甲: 我们四个都没有坚持一个月;
- 乙: 我们四个中有人坚持了一个月;
- 丙: 乙和丁至少有一人没有坚持一个月;
- 丁: 我没有坚持一个月。

如果四个人中有两人说的是真话, 两人说的是假话, 则下列说法正确的是:

- A. 说真话的是乙和丙
- B. 说真话的是甲和丁
- C. 说真话的是甲和丙
- D. 说真话的是乙和丁

77. 在一项关于公民阅读习惯的问卷调查中, 参与调查的受访者, 90后占9.0%, 80后占36.7%, 70后占34.2%, 60后占13.3%。学历为初中及以下的受访者占0.8%, 高中学历的占6.9%, 大学专科学历的占20.7%, 大学本科学历的占65.7%, 硕士研究生占5.2%, 0.9%的受访者为博士研究生。

由此可以推出受访者中必然有:

- A. 学历为博士的60后
- B. 学历为硕士的70后
- C. 学历为本科的80后

D. 学历为专科的90后

78. 玩过暴力游戏的儿童，在与同伴相处时，更容易表现出攻击性倾向，例如与老师争执，喜欢结伙打架等。无论是同伴、教师还是家长报告，这一效应均普遍存在。

如果以下选项为真，最能削弱以上结论的是：

A. 玩暴力游戏的儿童主要是男孩

B. 暴力游戏可以让人们以一种安全的方式表达自己的攻击倾向

C. 与同伴相处中原本爱打架的儿童更喜欢玩暴力游戏

D. 近年来，尽管暴力游戏售卖量增加，但现实中的儿童暴力事件却有所减少

79. 对大多数人而言，印象中的长城雄伟壮观、绵亘蜿蜒，八达岭、居庸关、山海关、慕田峪等景区就是如此。但它们占整个长城的10%都不到，其余90%以上的长城，大多淹没在荒郊野外，保护状况堪忧。

以下哪项如果为真，最能支持上述结论？

A. 处于偏远地区的古长城存在着被盗挖的现象

B. 好奇心和挑战欲强的探险者往往会攀爬野长城

C. 保护长城的相关法律法规缺乏实施细则，难以落实

D. 景区内的长城更容易受到游客破坏且得不到及时修缮

80. 中国政府生物技术研发投资仅次于美国，在国际上居第二位。有专家认为，如果在推广确认安全的转基因作物生产上迟疑不决，不但会让我们在国际竞争中错失先机，也会造成庞大公共研发资金的极大浪费。

以下哪项如果为真，不能质疑专家的论述：

A. 中国政府生物技术研发投资中，只有极少量被用于转基因作物研究

B. 国际竞争主要取决于理论上的创新，而不是技术上的推广

C. 匆忙推广不完善的研发成果可能会造成公共研发资金的更大浪费

D. 许多反对推广转基因作物生产的国家在生物技术研发领域都投资甚少

常识判断

请根据题目要求，在每个选项中选出一个最恰当的答案。

81. 下列与鸟有关的说法中错误的是：

A. 秃鹫被称为“草原清道夫”，喜食腐烂的尸体

B. 蜂鸟主要分布在南美洲，是世界上最小的鸟类

C. 鸵鸟肌肉发达，后肢粗壮有力，可以飞行

D. 金丝燕嘴里分泌的唾液就是燕窝

82. 关于野外生存技能，下列说法中正确的是：

A. 在海岛生存时，如身体缺少盐分可饮用海水进行补充

- B. 可以用手表、北极星、树冠、树桩来确认方向
- C. 次氯酸钠可以用于破损伤口的消毒
- D. 攀登雪山的时候不要大量饮水，否则容易造成水肿

83. 关于马铃薯，下列说法中错误的是：

- A. 通过块茎繁殖
- B. 原产于南美洲
- C. 是茄科茄属一年生草本植物
- D. 我国唐朝已经有种植记录

84. 根据下图，下列说法中正确的是：



- A. 在地图上可以看到好望角
 - B. 陆地东侧有寒流经过
 - C. 麦哲伦曾经到达这一地区
 - D. 此地原住民主要是印第安人
85. 下列国家或地区与其货币发行机构对应错误的是：
- A. 欧元区——欧洲中央银行
 - B. 中国香港——货币发行管理局
 - C. 新加坡——金融管理局
 - D. 美国——美联储
86. 下列诗词与其反映的节日对应错误的是：
- A. 东风夜放花千树，更吹落、星如雨——春节
 - B. 风吹旷野纸钱飞，古墓垒垒春草绿——清明
 - C. 叶落疏桐秋正半，花开丛桂月常圆——中秋
 - D. 尘世难逢开口笑，菊花须插满头归——重阳

87. 行政许可是指行政机关根据行政相对人的申请，经依法审查，准予其从事特定活动的行为。

关于行政许可，下列说法中错误的是：

- A . 行政许可主要是指法定的行政审批
- B . “非行政许可审批事项”这一类型将会不复存在
- C . 税务机关对企业申请享受纳税减免优惠的审批属于行政许可
- D . 行政许可不应包括市场竞争机制能够有效调节的事项

88. 下列疾病与治疗药物对应错误的是：

- A . 冠心病——硝酸甘油片
- B . 糖尿病——胰岛素
- C . 佝偻病——维生素D片
- D . 坏血病——阿司匹林

89. 关于国家，下列说法中错误的是：

- A . 丹麦是世界上纬度最高的国家
- B . 俄罗斯是世界上跨经度最广的国家
- C . 芬兰拥有世界上最多的湖泊
- D . 沙特阿拉伯有世界上面积最大的沙漠

90. 关于太阳系，下列说法中正确的是：

- A . 太阳系位于银河系的中心
- B . 矮行星是围绕大行星运行的天体
- C . 距太阳越远的行星公转周期越长
- D . 八大行星的自转方向相同

91. 下列与“三”有关的故事，哪一组不是出自同一名著：

- A . 三顾茅庐、桃园三结义
- B . 三打祝家庄、三碗不过岗
- C . 三探无底洞、三计乱荆州
- D . 三打白骨精、三借芭蕉扇

92. 战国时期，所谓“山东六国”中的“山”指的是：

- A . 阴山
- B . 太行山
- C . 崤山
- D . 祁连山

93. 关于文学作品与其主人公，下列对应正确的是：

- A . 《桃花扇》——崔莺莺、张君瑞

- B. 《西厢记》——杜丽娘、柳梦梅
 - C. 《牡丹亭》——李香君、侯方域
 - D. 《长生殿》——唐玄宗、杨贵妃
94. 下列有关条约或协议的说法中正确的是：
- A. 《尼布楚条约》是中国签订的第一个不平等条约
 - B. 《马关条约》是中国被割占领土最多的条约
 - C. 《南京条约》标志着中国完全沦为半殖民地半封建社会
 - D. 《雅尔塔协议》的签署有损中国主权与领土的完整
95. 下列与戏剧有关的说法中错误的是：
- A. 《被缚的普罗米修斯》是古希腊悲剧
 - B. 《仲夏夜之梦》是莎士比亚的喜剧
 - C. 萨特是存在主义戏剧的代表人物
 - D. 萧伯纳是美国剧作家
96. 下列战事与参战的将领对应错误的是：
- A. 长平之战：白起、赵括
 - B. 滑铁卢之战：拿破仑、威灵顿
 - C. 朝鲜战争：彭德怀、麦克阿瑟
 - D. 斯大林格勒保卫战：朱可夫、隆美尔
97. 关于大河起源，下列对应错误的是：
- A. 长江——唐古拉山
 - B. 黄河——巴颜喀拉山
 - C. 莱茵河——阿尔卑斯山
 - D. 亚马逊河——落基山
98. 下列机关中，无权制定地方性法规的是：
- A. 省级人大及其常委会
 - B. 设区的市人大及其常委会
 - C. 自治州人大及其常委会
 - D. 县级人大及其常委会
99. 下列关于武器装备的说法中错误的是：
- A. 尼米兹级航母是美军装备的核动力航空母舰
 - B. S300导弹是俄罗斯生产的高空防空导弹
 - C. 枭龙是我国生产的性能优良的无人机

D. F-22是美军装备的先进的隐身战机

100.下列表述中不符合十八届五中全会精神和“十三五”规划纲要提法的是：

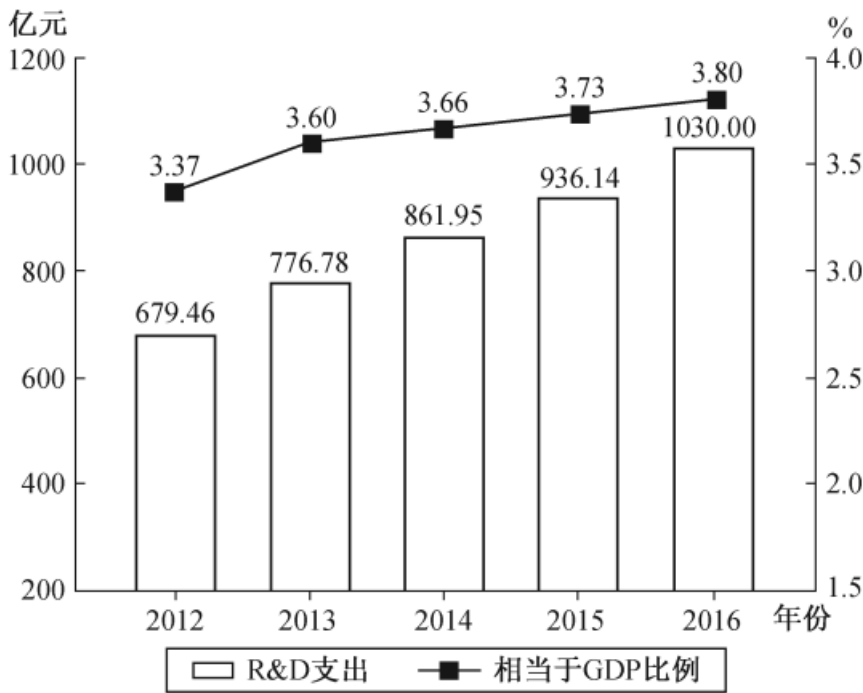
- A. 供给侧结构性改革是我国“十三五”时期经济社会发展的主线
- B. 创新是引领发展的第一动力
- C. 投资起着推动发展的基础性作用
- D. “放、管、服”是我国当前和今后一个时期政府职能转变的主要任务

资料分析

请根据题目要求，在每个选项中选出一个最恰当的答案。

2016年S市全年用于研究与试验发展（R&D）经费支出总额为1030.00亿元，占S市生产总值的比重为3.80%。

2012~2016年R&D经费支出及其相当于S市生产总值的比例



全年受理专利申请119937件，比上年增长19.9%，其中，受理发明专利申请54339件，增长15.7%。全年专利授权量为64230件，增长5.9%，其中，发明专利授权量为20086件，增长14.1%。全年PCT国际专利受理量为1560件，比上年增长47.2%。至年末，全市有效发明专利达85049件。年内全市新认定高新技术企业2306家。年内认定高新技术成果转化项目469项，其中，电子信息、生物医药、新材料等重点领域项目占87.4%。至年末，共认定高新技术成果转化项目10969项。全年经认定登记的各类技术交易合同2.12万件，比上年下降5.8%；合同金额822.86亿元，增长16.2%。

101.2013~2016年间，S市研究与试验发展经费与上年相比增速最快的年份是：

- A. 2013年

- B . 2014年
- C . 2015年
- D . 2016年

102.2015和2016年S市研究与试验发展经费总支出约占同期生产总值的：

- A . 3.67%
- B . 3.74%
- C . 3.77%
- D . 3.84%

103.S市下列各项指标中，2016年同比增长速度最慢的是：

- A . 受理发明专利申请量
- B . 发明专利授权量
- C . PCT国际专利受理量
- D . 经认定登记的各类技术交易合同金额

104.2016年S市全年受理专利申请比2015年约增加多少万件：

- A . 2.0
- B . 1.8
- C . 1.6
- D . 1.4

105.根据上述资料，下列说法不正确的是：

- A . 2016年研究与试验发展经费支出占生产总值的比重比2012年高0.43个百分点
- B . 2012~2016年，年均研究与试验发展经费支出超过800亿元
- C . 2016年，发明专利授权量占专利授权量的三分之一以上
- D . 2016年，平均每件经认定登记的各类技术交易合同金额不超过400万元

2014年我国粮食种植面积11274万公顷，比上年增加78万公顷。棉花种植面积422万公顷，减少13万公顷。油料种植面积1408万公顷，增加6万公顷。糖料种植面积191万公顷、减少9万公顷。

粮食再获丰收。全年粮食产量60710万吨，比上年增加516万吨，增产0.9%。其中，夏粮产量13660万吨，增产3.6%；早稻产量3401万吨，减产0.4%；秋粮产量43649万吨，增产0.1%。全年谷物产量55727万吨，比上年增产0.8%。其中，稻谷产量20643万吨，增产1.4%；小麦产量12617万吨，增产3.5%；玉米产量21567万吨，减产1.3%。

全年棉花产量616万吨，比上年减产2.2%。油料产量3517万吨，与上年持平。糖料产量13403万吨，减产2.5%。茶叶产量209万吨，增产8.7%。

106.2014年，我国粮食种植面积同比增速比油料种植面积同比增速：

- A . 高不到1个百分点
- B . 高1个百分点以上
- C . 低不到1个百分点
- D . 低1个百分点以上

107.2014年，我国粮食单位种植面积的产量约为多少：

- A . 3.9
- B . 4.4
- C . 4.9
- D . 5.4

108.将不同作物按2014年单位种植面积产量由高到低排序，下列正确的是：

- A . 棉花——油料——糖料
- B . 棉花——糖料——油料
- C . 糖料——油料——棉花
- D . 糖料——棉花——油料

109.2013年，秋粮产量约为夏粮产量的多少倍：

- A . 不到2倍
- B . 2倍多
- C . 3倍多
- D . 4倍多

110.关于2014年我国农业生产，下列说法正确的是：

- A . 稻谷、小麦和玉米产量均同比增长
- B . 粮食种植面积为棉花、油料、糖料总种植面积的4-5倍之间
- C . 棉花、糖料、油料产量均高于茶叶产量
- D . 料单位种植面积的产量同比下降

2013年，全国共有工业企业法人单位241万个，从业人员14025.8万人，分别比2008年增长26.6%和19.5%。

2013年，在工业企业法人单位中，采矿业8.9万个，比2008年下降1.4%；制造业225.2万个；电力、热力、燃气及水生产和供应业6.9万个，比2008年下降0.1%。在工业企业法人单位从业人员中，采矿业占7.4%，制造业占89.2%，电力、热力、燃气及水生产和供应业占3.4%。

2013 年按登记注册类型分组的工业企业法人单位和从业人员

	企业法人单位 (万个)	从业人员 (万人)
合 计	241.0	14025.8
内资企业	229.3	11259.1
国有企业	2.0	478.5
集体企业	4.0	173.6
股份合作企业	2.4	62.2
联营企业	0.5	19.8
有限责任公司	32.1	3194.8
股份有限公司	3.0	847.6
私营企业	176.0	6272.2
其他企业	9.3	210.4
港、澳、台商投资企业	5.7	1343.1
外商投资企业	5.9	1423.6

111.2008年，全国共有工业企业从业人员约为多少亿人：

- A . 1.0
- B . 1.2
- C . 1.3
- D . 1.5

112.2013年，全国采矿业每个法人单位的平均从业人员数量约为多少人：

- A . 98
- B . 117
- C . 134
- D . 168

113.将不同类型企业按2013年平均每个法人单位从业人员数量从高到低排序，下列正确的是：

- A . 私营企业 > 股份合作企业 > 集体企业 > 其他企业
- B . 私营企业 > 集体企业 > 其他企业 > 股份合作企业
- C . 集体企业 > 私营企业 > 股份合作企业 > 其他企业
- D . 集体企业 > 股份合作企业 > 私营企业 > 其他企业

114.2008年，全国制造业企业法人单位有约多少个：

- A . 160
- B . 174

- C . 186
- D . 200

115.关于2013年全国工业企业情况，下列说法正确的是：

- A . 国有企业从业人员占全国内资企业从业人员的比重不足4%
- B . 电力、热力、燃气及水生产和供应业从业人员超过400万人
- C . 港、澳、台商投资企业法人单位数量占全国工业企业法人单位的比重不足2%
- D . 内资企业中企业法人单位个数少于6万的有7种类型

2015年，我国货物进出口总额245741亿元，比上年下降7.0%。其中，出口141255亿元，下降1.8%；进口104485亿元，下降13.2%。货物进出口差额（出口减进口）36770亿元，比上年增加13244亿元。

2015 年主要商品进口数量、金额及其增长速度

商品名称	数量 (万吨)	比上年增长 (%)	金额 (亿元)	比上年增长 (%)
谷物及谷物粉	3270	67.6	582	52.4
大豆	8169	14.4	2157	-12.8
食用植物油	676	4.1	311	-14.5
铁矿砂及其精矿	95272	2.2	3574	-37.7
氧化铝	465	-11.8	101	-14.2
煤（包括褐煤）	20406	-29.9	749	-45.2
原油	33550	8.8	8333	-40.5
成品油	2990	-0.3	886	-38.5
初级形状的塑料	2610	2.9	2793	-11.8
纸浆	1984	10.4	792	6.9
钢材	1278	-11.4	889	-19.2
未锻轧铜及铜材	481	-0.3	1804	-17.4

116.2015年，谷物及谷物粉的进口金额比上一年增加约多少亿元：

- A . 170
- B . 200
- C . 230
- D . 260

117.下列商品中，2015年进口金额占我国货物进口总额的比重高于上年的是：

- A . 食用植物油
- B . 氧化铝
- C . 初级形状的塑料

D . 未锻轧铜及铜材

118.2015年，原油进口金额占全年进口总额的比重为：

A . 7.5%

B . 8.0%

C . 8.8%

D . 9.3%

119.2015年，下列商品的进口数量同比增长量最大的是：

A . 大豆

B . 铁矿砂及其精矿

C . 原油

D . 纸浆

120.关于2015年我国进出口情况，下列说法正确的是：

A . 货物进出口差额的增长率不足50%

B . 各类主要商品进口单价均低于上年

C . 每吨钢材的进口金额超过8000元

D . 主要商品进口数量和金额均同比下降的有6类



如何对答案：打开公考通app
进入历年真题，录入答案后即可评分并查看解析。